

**Activité : Quelles sont les connaissances géographiques à la fin du Moyen Âge quelle est l'importance du merveilleux et du religieux dans la représentation du monde ?**

1ere partie:

En classe, en binôme: remplissez cependant une fiche par élève

- visionner la vidéo du CNRS
- Répondez aux questions ci-dessous

<https://images.cnrs.fr/video/6862>

**Qu'est ce que l'Atlas catalan ?**

- Selon les historiens, qui en est l'auteur et à quelle époque ? A qui est destiné cet ouvrage ?
- Que représentent les cartes réunies dans cet ouvrage ?
- Quelle partie du monde est représentée pour la première fois sous forme triangulaire ?
- De quel auteur s'inspirent les cartes représentant l'Asie orientale ?

2eme partie:

En classe, en binôme: remplissez cependant une fiche par élève

Comme l'indique la vidéo précédente, l'Atlas catalan mêle des éléments physiques et politiques à des représentations fantastiques et religieuses. Vous allez maintenant relever un certain nombre de ces éléments, afin d'alimenter une réponse à une question problématisée (la question en tête de cette activité). Pour cela je vous propose un plan:




- I. **L'Atlas catalan témoigne d'une bonne connaissance du monde physique et politique**
  - A. La représentation du monde est proche de la réalité physique
  - B. Des éléments politiques, voire commerciaux, sont intégrés aux représentations
- II. **L'Atlas catalan montre cependant que le merveilleux et le religieux servent encore à expliquer le monde**
  - A. Le monde est aussi une représentation de la pensée religieuse
  - B. Le merveilleux est présent et sert aussi à masquer les lacunes scientifiques

Votre travail consiste à trouver, dans l'Atlas catalan, des éléments de preuve pour chacune des sous-parties proposée

- Naviguez sur l'Atlas catalan projeté sur une carte moderne:

<https://tinyurl.com/cat-cresq>

**Pour chacun des éléments proposés, répondez à la question et classez le dans une des sous-parties**

	<p><b>De quel pays (actuel) viendraient les rois mages selon cette carte ?</b>  <i>La légende indique: Cette province est appelée Tarse et c'est de là que partirent les Rois mages pour venir à Bethléem en Judée avec leurs présents pour adorer Jésus Christ. Ils sont enterrés dans la ville de Cologne, qui est à deux jours de voyage de Bruges.</i></p> <p><input type="checkbox"/> I.A Représentation proche de la réalité    <input type="checkbox"/> I.B. Élément politique ou commercial  <input type="checkbox"/> II.A Élément de la pensée religieuse    <input type="checkbox"/> II.B Élément merveilleux</p>
	<p><b>En utilisant la fonction "transparence", étudiez la précision du tracé des côtes de la Sicile et de l'Afrique du Nord. Que pensez-vous des connaissances géographiques de l'époque pour cette partie du monde ?</b></p> <p><input type="checkbox"/> I.A Représentation proche de la réalité    <input type="checkbox"/> I.B. Élément politique ou commercial  <input type="checkbox"/> II.A Élément de la pensée religieuse    <input type="checkbox"/> II.B Élément merveilleux</p>
	<p><b>Quelle est cette ville ? Est-elle correctement située ? Quelles informations politiques donne l'Atlas catalan ?</b>  <i>La légende indique: La Mecque. dans cette ville on trouve l'arche de Mahomet, le prophète des Sarrazins qui font un pèlerinage depuis tous leurs pays."</i></p> <p><input type="checkbox"/> I.A Représentation proche de la réalité    <input type="checkbox"/> I.B. Élément politique ou commercial  <input type="checkbox"/> II.A Élément de la pensée religieuse    <input type="checkbox"/> II.B Élément merveilleux</p>



**Dans quel pays actuel se situerait cet élément de la carte ? Quelle information est intéressante pour le roi de France ?**

*La légende indique: Aquest senyor negre és appellat Musse Melly...: Ce seigneur noir est appelé Muse Melly et règne sur le pays des nègres de Guinée. Ce roi est le plus riche et le plus noble de ces pays, grâce à l'abondance d'or qui se trouve dans son royaume*

- I.A Représentation proche de la réalité  I.B. Élément politique ou commercial  
 II.A Élément de la pensée religieuse  II.B Élément merveilleux



**Que trouve-t-on de l'autre côté du monde ? Y-a-t-il d'autres éléments fantastiques dans cette partie de la carte ?**

*La légende indique: Mer de les illes des Indes. La mer des îles indiennes où l'on trouve des épices. Des navires de nombreux pays traversent cette mer. On y trouve trois espèces de poissons appelées sirènes: une est moitié femme, moitié poisson, l'autre est moitié femme moitié oiseau.*

- I.A Représentation proche de la réalité  I.B. Élément politique ou commercial  
 II.A Élément de la pensée religieuse  II.B Élément merveilleux



**Quelle mer est représentée ici ? Quelle est la précision des informations géographiques, politiques ou commerciales ?**

*La légende indique: Dans la ville de Chos... Les épices venues d'Inde sont apportées dans cette ville de Chos (Auj. El Qousseir, Egypte). Puis elles sont transportées à Babylone (Al-Fustat, la capitale de l'Égypte à cette époque. Aujourd'hui Fostat)*

- I.A Représentation proche de la réalité  I.B. Élément politique ou commercial  
 II.A Élément de la pensée religieuse  II.B Élément merveilleux



**Que représente la structure en bois au sommet de ces montagnes ? De quel registre cela relève-t-il ?**

*La légende indique: Mont Ararat ... Mont Ararat où l'Arche de Noé s'est posée après le déluge.*

- I.A Représentation proche de la réalité  I.B. Élément politique ou commercial  
 II.A Élément de la pensée religieuse  II.B Élément merveilleux



**Que font ces hommes ? D'où vient cette histoire d'après vous ?**

*La légende indique: Ces hommes sont désignés pour ramasser des diamants. Mais comme ils ne peuvent grimper sur ces montagnes, ils jettent astucieusement des morceaux de viande là où se trouvent les pierres précieuses. Les pierres adhèrent à la viande et se détachent (de la montagne). Plus tard, les pierres tombent des morceaux de viande transportés par les oiseaux.*

- I.A Représentation proche de la réalité  I.B. Élément politique ou commercial  
 II.A Élément de la pensée religieuse  II.B Élément merveilleux

A partir du plan proposé et des éléments que vous avez relevés dans l'Atlas catalan, répondez à la question problématisée en vous appuyant sur le document:

**Quelles sont les connaissances géographiques à la fin du Moyen Âge quelle est l'importance du merveilleux et du religieux dans la représentation du monde ?**

*En introduction vous devez trouver une accroche et présenter le document, avant l'annonce de votre plan.*

*En conclusion vous pourrez faire une ouverture sur les Grandes Découvertes puisque l'on étudie ce document de la fin du Moyen Âge, avant les Grandes Découvertes des Portugais et Espagnols.*

Rappel de la méthode:

<b>Introduction</b>	
Accroche	<input type="radio"/>
Présentation document(s)	<input type="radio"/>
Problématique	<input type="radio"/>
Annonce plan	<input type="radio"/>
<b>Partie I</b>	
Connecteur logique	<input type="radio"/>
Idée(s), preuve(s), explication(s)	<input type="radio"/>
<b>Partie II</b>	
Connecteur logique	<input type="radio"/>
Idée(s), preuve(s), explication(s)	<input type="radio"/>
<b>Partie III</b>	
Connecteur logique	<input type="radio"/>
Idée(s), preuve(s), explication(s)	<input type="radio"/>
<b>Conclusion</b>	
Rappel du plan	<input type="radio"/>
Réponse problématique	<input type="radio"/>
Ouverture	<input type="radio"/>

### Etude d'un document:

1. **Présentation en bref dans l'introduction (D.A.N.S)**

2. **En détail dans vos parties:**

**Une idée / une preuve dans les documents (Illustration/citation à situer dans le document) /  
Explication par les connaissances du cours**