


**I] Définissez les termes suivants :** (2 points)

- Réglementation
- Aléa moral

**II] Mobilisation de connaissances**

A) Expliquez en quoi le marché est défaillant en cas de biens collectifs. (3 points)

B) Complétez la grille à l'aide des indications fournies (3 points)



**Horizontalement :**

6. Celle des ressources naturelles conduit à "la tragédie des communs"

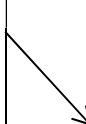
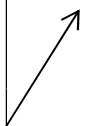
**Verticalement**

1. Telle est la sélection en cas de défaillance du marché...
2. Les pouvoirs publics peuvent décider de prendre en charge la production de ces biens pour minorer une défaillance du marché.
3. Un des moyens d'intervention des pouvoirs publics. Elle peut être incitative ou punitive...
4. Tel est le niveau de production en cas d'externalités positives par rapport au niveau socialement optimal.
5. Tel est le niveau de production en cas d'externalités négatives par rapport au niveau socialement optimal.

C) Complétez les cases vides correspondant aux différentes défaillances du marché et reliez les exemples d'actions des pouvoirs publics à la défaillance lui correspondant (certaines actions peuvent combattre plusieurs défaillances). (5 points)

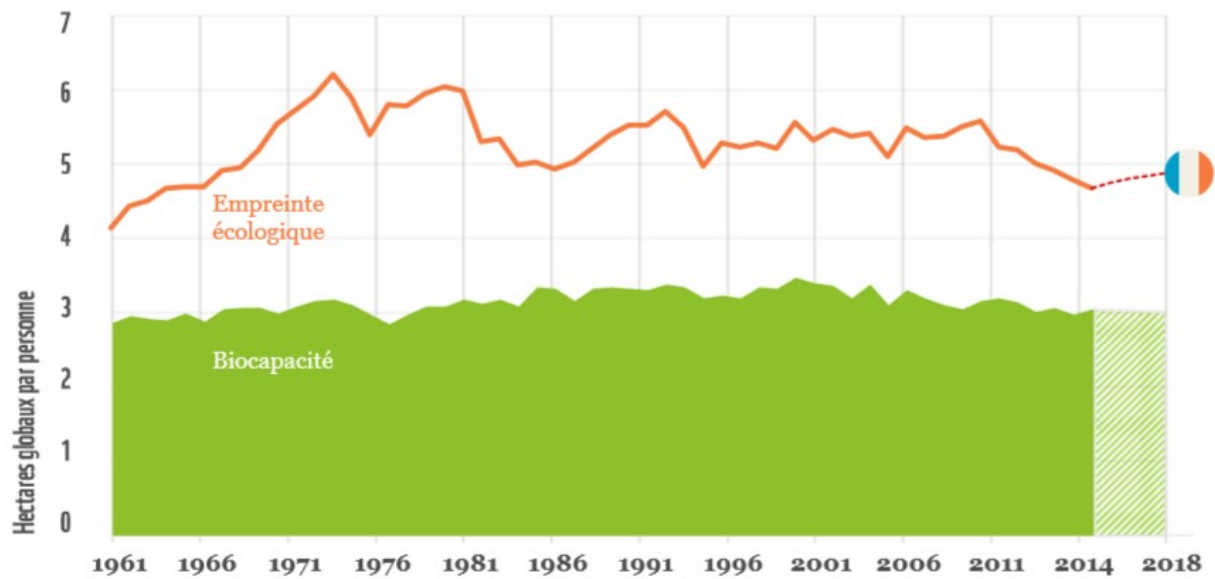
- ❖ Hausse du ticket modérateur (part des soins à la charge du patient)
- ❖ Favoriser le rôle des associations de consommateurs
- ❖ Taxe carbone sur les rejets de CO2
- ❖ Subventions publiques en faveur de la RD
- ❖ Mise en place de quotas de pêche
- ❖ Limiter le nombre de consultations santé par client
- ❖ Imposer un contrôle technique pour les véhicules
- ❖ Favoriser les « Labels de producteurs »
- ❖ Permettre la mise en place de monopoles naturels publics

Asymétrie information



### III] Mobilisation de connaissances et traitement de l'information

#### Évolution de l'empreinte écologique et de la biocapacité en France



#### **Évolution de l'empreinte et de la biocapacité de la France (1961-2018)**

Sources : Global Footprint Network sur la base des nouvelles données statistiques mondiales avec une estimation sur la période 2014-2018.

L'empreinte écologique est une mesure de l'impact de l'activité humaine sur le milieu naturel (surface nécessaire pour produire tout ce que consomme un individu ou une population pour son alimentation, son habitation, ses déplacements... ainsi que pour absorber les déchets rejetés). La biocapacité d'une zone biologiquement productive donnée désigne sa capacité à générer une offre continue en ressources renouvelables et à absorber les déchets découlant de leur consommation.

1. Définissez la notion de biens communs (1 point)
2. Comparez l'évolution de l'empreinte écologique et de la biocapacité en France de 1961 à 2018. (2 points)
3. À l'aide du document, montrez que le marché est défaillant en présence de biens communs (4 points)